

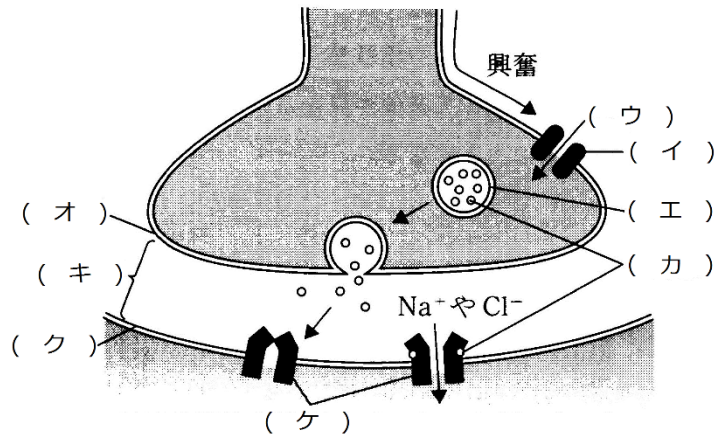
予習・復習シート 共通テスト生物 2学期 3回目

第18問 2学期 神経系(その8)

問1 右図を参考にして、次の文章中の空欄(ア～コ)に適する語を入れよ。

神経細胞の終末が、他の神経細胞や効果器と連絡し、興奮の伝達が行われる部分を(ア)という。

興奮が神経終末に到達すると、(イ)が開き、(ウ)が流入する。(ウ)の作用で、(エ)が(オ)と融合し、その内部に含まれていた(カ)が(キ)に放出される。(カ)が(ク)の(ケ)に結合すると、イオンチャネルが開き、イオンが流入して(コ)が発生する。



問2 問1の(コ)に関する次の文章中の空欄(サ～タ)に適する語句を入れよ。

(ケ)がNa⁺チャネルである場合、(コ)は図(サ)のように、(シ)となる。このような(ア)は(ス)という。また、(ケ)がCl⁻チャネルである場合、図(セ)のように(ソ)となる。このような(ア)は(タ)という。

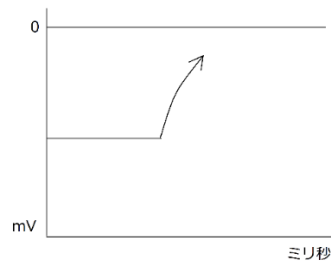


図1

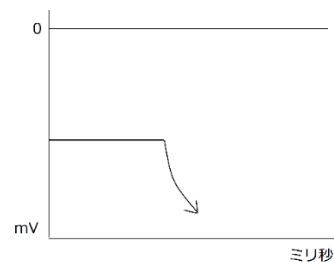


図2

【解答】第18問 2学期

問1・2

ア - シナプス イ - 電位依存性 Ca²⁺チャネル ウ - Ca²⁺ エ - シナプス小胞
 オ - シナプス前膜 カ - 神経伝達物質 キ - シナプス間隙 ク - シナプス後膜
 ケ - 伝達物質依存性イオンチャネル コ - シナプス後電位 サ - 1 シ - 脱分極
 ス - 興奮性シナプス セ - 2 ソ - 過分極 タ - 抑制性シナプス

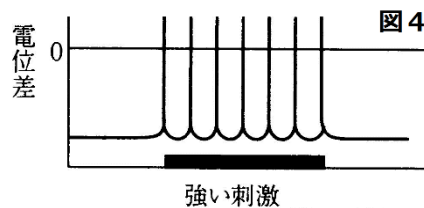
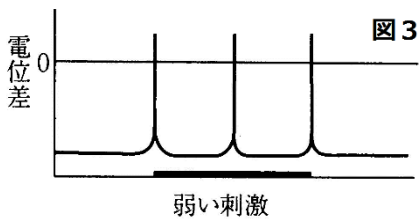
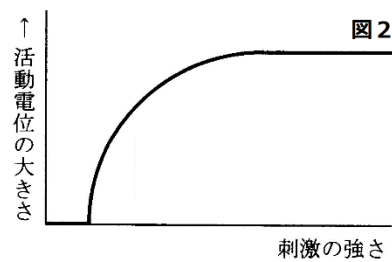
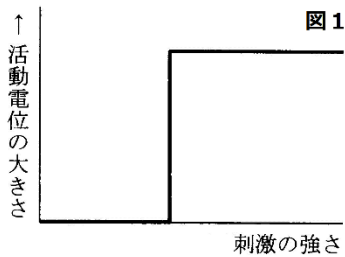
第19問 2学期 神経系(その8)

問1 次の表中の空欄(ア～ウ)に、適する神経伝達物質の名称を入れよ。

神経伝達物質	作用	はたらく場所
(ア)	作用する受容体により興奮性か抑制性かが異なる	交感神経
(イ)		副交感神経 運動神経
セロトニン		中枢神経
ドーパミン		
グリシン		
グルタミン酸	興奮性	
(ウ)	抑制性	

問2 下の図に関する次の文章中の空欄(ア～オ)に適する語句を入れよ。

神経細胞や筋繊維など興奮する細胞はすべて(ア)を持っていて、(ア)以上の刺激を与えると始めて興奮する。しかし、与える刺激を大きくしても、図1のように興奮(活動電位)の大きさは変化せず、これを(イ)という。ところが、細胞1つ1つで(ア)の大きさが(ウ)ため、与える刺激を大きくしていくと、まず(ア)が最も(エ)い細胞が興奮する。そして興奮する細胞が増えるにつれて、全体の興奮(活動電位)の大きさは多くなるが、やがてすべての細胞が興奮すると、興奮(活動電位)の大きさは一定となる(図2)。つまり(イ)に従わなくなる。ただし、与える刺激を大きくすると、興奮の発生頻度が(オ)する(図3・4)。



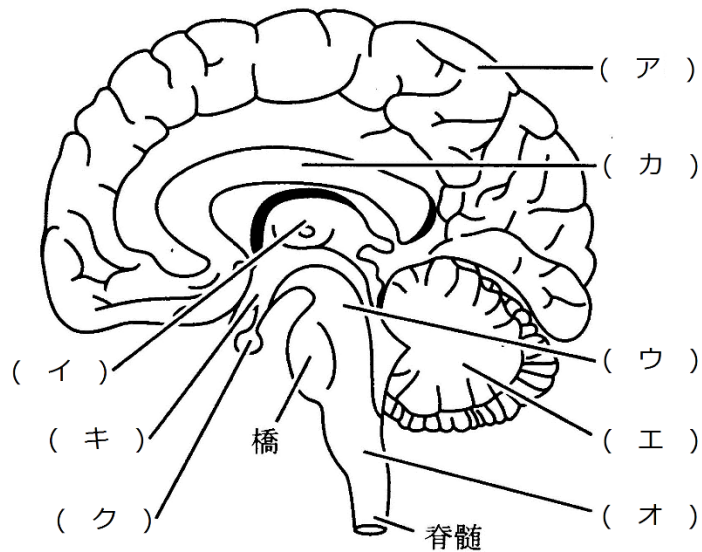
【解答】第19問 2学期

問1 ア - ノルアドレナリン イ - アセチルコリン ウ - GABA (= γ -アミノ酪酸)

問2 ア - 閾値 イ - 全か無かの法則 ウ - 異なる エ - 小さ オ - 増加

第20問 2学期 神経系(その9)

問1 次の図の空欄(ア～ク)に適する語句を入れよ。



問2 次の文章中の空欄(ア～チ)に適する語句を入れよ。

間脳は、(ア)と(イ)からなる。(ア)は、大脳半球の(ウ)野に達する(ウ)神経の中継点になっている。また、(イ)は、(エ)と(オ)の最高中枢である。中脳は、(カ)・(キ)・(ク)・(ケ)・(コ)の中枢になっている。小脳は、体のバランスに関与する(サ)、(シ)の調節などに関与する。つまり、運動の(ス)に関わっている。延髄は、(セ)・(ソ)・(タ)などを司っている。また、咳・飲み込むなどの運動も司る。

間脳・中脳・橋・延髄は、生命維持に関する重要な機能を果たしており、まとめて(チ)という。

【解答】第20問 2学期

問1 ア - 大脳 イ - 間脳 ウ - 中脳 エ - 小脳 オ - 延髄 カ - 脳梁
キ - 視床下部 ク - 脳下垂体

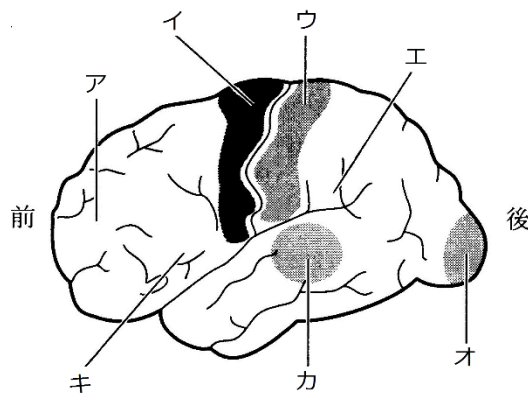
問2 ア - 視床 イ - 視床下部 ウ - 感覚 エ・オ - 自律神経系・内分泌系
カ～コ - 眼球運動反射・瞳孔反射・ピント調節・姿勢保持反射(立ち直り反射)
サ - 平衡反射 シ - 運動 ス - 上手い・下手
セ・ソ・タ - 呼吸運動・拍動・血管収縮 チ - 脳幹

第21問 2学期 神経系(その10)

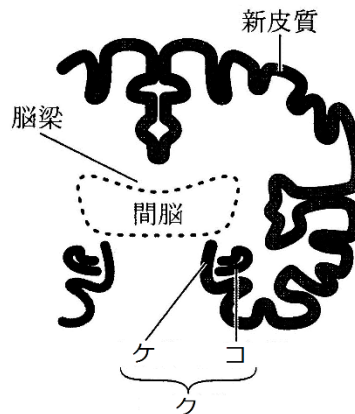
問1 次の文章中の空欄(ア～ス)に適する語句を入れよ。

大脳は、その外側を(ア)、内側を(イ)という。また、(ア)は、神経細胞の(ウ)が集まった部分で、(エ)色をしているため(エ)質ともいう。それに対して、(イ)は、神経細胞の(オ)が集まった部分で、(カ)色をしているため(カ)質ともいう。(ア)は、(キ)と(ク)からなる。さらに(キ)は、感覚を司る(ケ)、随意運動を司る(コ)、記憶・思考・推理・理性・判断などを司る(サ)からなる。また、(ク)は、(シ)や情動を司っている。なお、大脳は右半球と左半球からなるが、それらをつないでいる部分を(ス)という。

問2 次の図中のア～コにあてはまるものを、下の①～⑨のうちからそれぞれ1つずつ選べ。なお、同じものを複数回選んでもよい。



ヒトの大脳の左半球の表面



ヒトの大脳の左右軸での断面図

- ① 原皮質 ② 視覚野 ③ 運動野 ④ 皮膚の感覚野 ⑤ 辺縁皮質
- ⑥ 新皮質 ⑦ 連合野 ⑧ 聴覚野 ⑨ 古皮質

【解答】第21問 2学期

問1 ア - 皮質 イ - 髄質 ウ - 細胞体 エ - 灰白 オ - 軸索 カ - 白
 キ - 新皮質 ク - 辺縁皮質 ケ - 感覚野 コ - 運動野 サ - 連合野
 シ - 本能行動 ス - 脳梁

問2 ア - ⑦ イ - ③ ウ - ④ エ - ⑦ オ - ② カ - ⑧ キ - ⑦
 ク - ⑤ ケ - ⑨ コ - ①

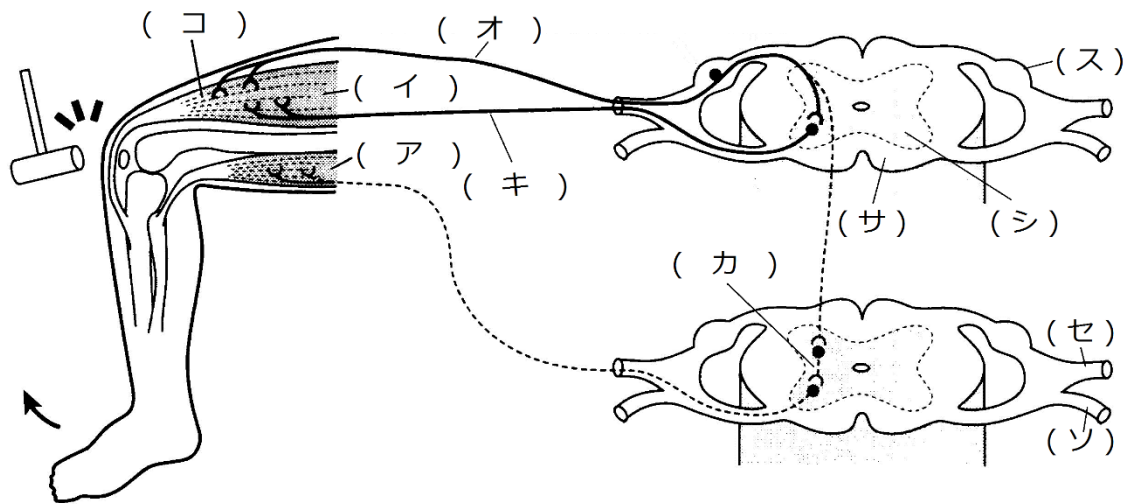
第 22 問 2 学期 神経系(その 11)

問 1 次の文章中の空欄(ア～ク)に適する語句を入れよ。

脊髄は様々な反射の中樞になっている。例えば、熱いものに手が触れると、「熱い」と感じる前に手の(ア)が収縮して、熱いものから手が離れる。これを(ア)反射という。膝頭の下をたたくと、足の(イ)が収縮して足が跳ね上がるが、これを(ウ)反射という。下の図は、これらの反射の経路を示している。

(ア)反射においては、「熱い」・「痛い」という刺激は、皮膚にある温点・痛点と呼ばれる(エ)で受け取られる。そのとき生じた興奮は、(オ)・(カ)・(キ)を通過して(ク)である(ア)に到達するが、この経路を(ケ)という。

一方、(ウ)反射における(エ)は(イ)の中にある(コ)である。(コ)で生じた興奮は(オ)・(キ)を通過して(イ)に達する。この経路も(ケ)という。



問 2 問 1 の図中の空欄(サ～ソ)に適する語句を入れよ。

【解答】第 22 問 2 学期

- 問 1 ア - 屈筋 イ - 伸筋 ウ - 膝蓋腱(「伸張」でも可) エ - 受容器 オ - 感覚神経
 カ - 介在神経 キ - 運動神経 ク - 効果器 ケ - 反射弓 コ - 筋紡錘
- 問 2 サ - 白質 シ - 灰白質 ス - 脊髄神経節 セ - 背根 ソ - 腹根

第23問 2学期 筋肉

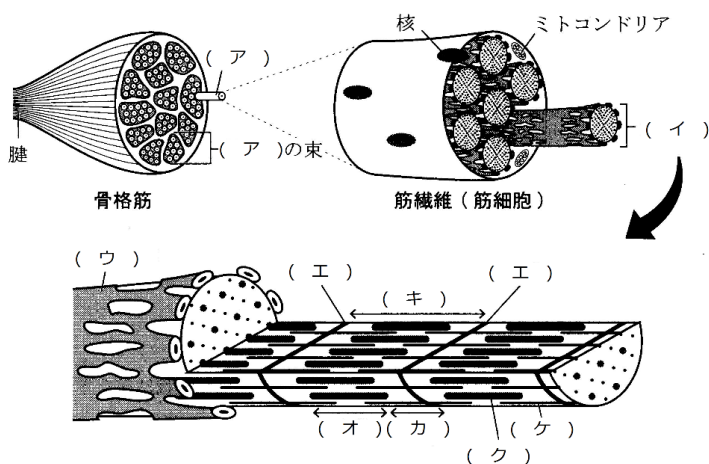
問1 次の文章中の空欄(ア～シ)に適する語句を入れよ。

筋肉は、(ア)と(イ)に分類することができる。さらに(ア)は、(ウ)と(エ)に分かれる。(ウ)は収縮が速く疲労しやすいのに対して、(エ)は収縮が速く疲労しにくい。また、(ウ)は1本の細胞が多数の(オ)を持つのに対し、(エ)は1つの細胞が1つの(オ)を持ち、また細胞が枝分かれしている。(イ)は(カ)とも呼ぶが、主に(キ)に分布し、蠕動運動や分節運動を起こす。また(ク)・(ケ)に分布し血圧の調節にも関与している。さらに瞳孔散大筋・瞳孔括約筋・(コ)も(イ)である。なお、(イ)・(エ)は、自分の意志で動かさないで(サ)、(ウ)は自分の意志で動かせるので(シ)とも呼ばれている。

問2 次の文章中の空欄(ア～キ)に適する語句を入れよ。

骨格筋は、(ア)色をした(イ)筋と、(ウ)色をした(エ)筋に分けることができる。マグロなどが持つ筋肉が(イ)筋で、(オ)に富んでいる。この(オ)が(カ)から酸素を受け取るため、(キ)が蓄積せず疲労しにくくなっている。一方の(エ)筋はタイなどが持つ筋肉で、非常に素早く収縮させることができるが、(キ)が蓄積するので疲労しやすい。

問3 次の図中の空欄(ア～ケ)に適する語句を入れよ。



【解答】第23問 2学期

- 問1 ア - 横紋筋 イ - 平滑筋 ウ - 骨格筋 エ - 心筋 オ - 核 カ - 内臓筋
 キ - 消化管 ク・ケ - 動脈・静脈 コ - 立毛筋 サ - 不随意筋 シ - 随意筋
- 問2 ア - 赤 イ - 赤(遅) ウ - 白 エ - 白(速) オ - ミオグロビン
 カ - ヘモグロビン キ - 乳酸
- 問3 ア - 筋繊維 イ - 筋原線維 ウ - 筋小胞体 エ - Z膜 オ - 暗帯 カ - 明帯
 キ - サルコメア(=筋節) ク - アクチンフィラメント ケ - ミオシンフィラメント